


Rompecocos 1

Cuaderno de Actividades Matemáticas

Primer ciclo de E. Primaria



Alumno/a: _____

Colegio: _____

Coloca y efectúa.

$$32 + 45 =$$

$$24 + 66 =$$

$$45 + 13 =$$

$$38 + 37 =$$

Si hoy es lunes, ¿qué día será mañana? _____

¿ Cuántos meses tiene el año? _____

Escríbelos aquí: _____

Completa.

28		24	22				
----	--	----	----	--	--	--	--

Sigue.

45		49	51				
----	--	----	----	--	--	--	--

Coloca y efectúa.

$12 + 47 =$

$67 + 24 =$

$83 + 16 =$

$55 + 19 =$

Si hoy es viernes, ¿qué día será mañana? _____

¿ Cuántos años tienes? _____

¿ Cuándo es tu cumpleaños? _____

Anteriores y posteriores.

____ 34 ____

____ 29 ____

____ 46 ____

____ 59 ____

____ 58 ____

____ 70 ____

Coloca y efectúa.

$$84 + 85 =$$

$$57 + 56 =$$

$$72 + 78 =$$

$$46 + 46 =$$

Escribe con letras:

67 _____

34 _____

86 _____

____/____/____

Completa como en el ejemplo:

$67 \text{ es } 60 + 7$

$18 \text{ es } \underline{\hspace{2cm}} + \underline{\hspace{2cm}} \quad 39 \text{ es } \underline{\hspace{2cm}} + \underline{\hspace{2cm}}$

$78 \text{ es } \underline{\hspace{2cm}} + \underline{\hspace{2cm}} \quad 91 \text{ es } \underline{\hspace{2cm}} + \underline{\hspace{2cm}}$

$27 \text{ es } \underline{\hspace{2cm}} + \underline{\hspace{2cm}} \quad 46 \text{ es } \underline{\hspace{2cm}} + \underline{\hspace{2cm}}$

Coloca y efectúa.

$62 + 7 =$

$34 + 4 =$

$86 + 6 =$

$56 + 9 =$

*Si una bolsa de caramelos vale 75 céntimos de euro,
¿cuánto valen dos bolsas?*

Respuesta: _____

____/____/____

Anteriores y posteriores.

____ 40 ____

____ 50 ____

____ 49 ____

____ 69 ____

____ 59 ____

____ 70 ____

Coloca y efectúa.

$$44 + 8 =$$

$$59 + 6 =$$

$$79 + 7 =$$

$$76 + 4 =$$

Escribe con letras:

33 _____

55 _____

77 _____

_____/_____/_____
Completa como en el ejemplo:


$$86 \text{ es } 80 + 6$$

24 es _____ + _____ 85 es _____ + _____

33 es _____ + _____ 22 es _____ + _____

48 es _____ + _____ 44 es _____ + _____

Colorea el coche que va en tercera posición.



Rafa tiene siete años y su hermana tiene cinco años más que él. ¿cuántos años tiene su hermana?

Respuesta: _____

____/____/____

Anteriores y posteriores.

____ 79 ____

____ 25 ____

____ 31 ____

____ 13 ____

____ 19 ____

____ 11 ____

Coloca y efectúa.

$$4 + 80 =$$

$$5 + 60 =$$

$$7 + 70 =$$

$$7 + 40 =$$

Escribe con letras:

99 _____

44 _____

22 _____

//_

Completa.

28		24	22				
----	--	----	----	--	--	--	--

Sigue.

45		49	51				
----	--	----	----	--	--	--	--

Coloca y efectúa.

$$55 + 44 =$$

$$44 + 33 =$$

$$22 + 77 =$$

$$11 + 88 =$$

Si hoy es martes, ¿qué día será mañana? _____

¿ Cuántos hermanos tienes? _____

¿ Dónde vives? _____

Sigue la serie de tres en tres.

27		33					
	54						

Coloca y efectúa.

$49 + 15 =$

$17 + 76 =$

$77 + 70 =$

$59 + 22 =$

Escribe con letras:

77 _____

55 _____

99 _____

Escribe desde el 5 al 99 de dos en dos.

5					
	79				
					99

Rompecocos 1.

Contenidos.

Numeración: 0 al 99.

- *Ordinales*
- *Escritura de números.*
- *Ordenación.*
- *Composición y descomposición de cantidades.*
- *Anteriores y posteriores.*
- *Series ascendentes y descendentes.*

Iniciación a las horas en relojes.

- *Horas en punto.*
- *Medias horas.*

Problemas que implican:

- *Sumas y restas sin llevadas.*
- *Sumas con llevadas.*
- *Restas con llevadas. (Iniciación)*

Rompecocos 1

Primer ciclo de E. Primaria

Rompecocos 1 es un repertorio de actividades pensadas para reforzar los aprendizajes matemáticos correspondientes al primer ciclo de Primaria.

El tutor/a dispone en este cuadernillo de una batería de ejercicios que agilizan en los alumnos y alumnas su cálculo mental, su razonamiento y la asimilación de los contenidos propios del nivel.

Contenidos:

Numeración: 99

Problemas:


Una operación.

Cálculo:

Sumas sin llevadas

Restas sin llevadas

Sumas con llevadas



**cuatro
emes**

Ediciones

Ahumada 6. 2-2º
11004. Cádiz
956 010018

Cuadernillos de la colección:

Rompecocos 1. Rompecocos 3

Rompecocos 2 Rompecocos 4